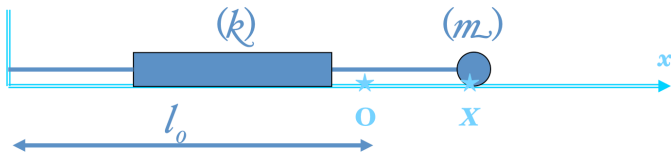


# TD#4 — Oscillateurs mécaniques

(Année universitaire 2016–2017 || L1-STE - Sem. 2 || Outils de Physique)

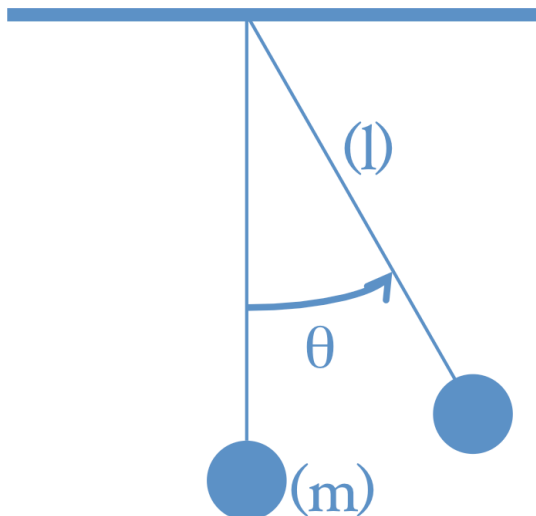
## 1 Ressort à l'horizontale

Un ressort de constante de raideur  $k$  et de longueur au repos  $l_0$  est placé sur un plan horizontal. À son extrémité libre est fixée une masse  $m$  qui peut glisser sans frottements sur ce plan, et dont on repère la position par son abscisse  $x$  sur un axe d'origine  $O$ . Lorsque la longueur du ressort vaut  $l_0$  son extrémité libre coïncide avec  $O$ .



## 2 Pendule

Une masse  $m$  est fixée à l'extrémité d'une fil de masse négligeable et de longueur  $l$ , repérée par l'angle  $\theta$  qu'elle fait avec la verticale. Ce système forme un pendule oscillant autour de sa position d'équilibre stable.



1. Écrire l'énergie mécanique  $E$  en fonction de  $\theta$  et  $\dot{\theta}$ .
2. En déduire que, pour le régime correspondant à de petits angles  $\theta$ , on retombe sur l'équation harmonique :

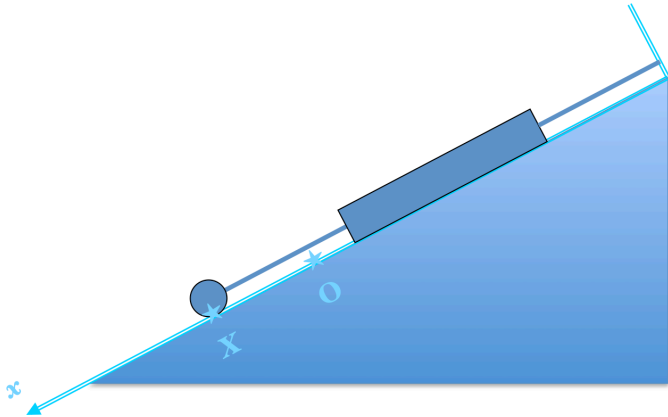
$$\ddot{\theta} + \frac{g}{l}\theta = 0,$$

où  $g$  est le module de l'accélération de la pesanteur terrestre.

3. Retrouver le même résultat en partant du bilan des forces appliquées au système.
4. En tirer la pulsation  $\omega$  des oscillations, puis la période  $T$ .
5. Donner l'expression de  $\theta(t)$  en fonction de l'amplitude  $\theta_m$ , la pulsation  $\omega$  et le déphasage  $\phi$ .
6. Trouver  $\theta_m$  et  $\phi$  grâce aux conditions initiales  $\theta(t=0)=\theta_0=\pi/6$  et  $\dot{\theta}(t=0)=\dot{\theta}_0=0$ .
7. Écrire l'expression de  $\theta^2 + \left(\frac{\dot{\theta}}{\omega}\right)^2$  et en déduire la nature de la trajectoire décrite au cours d'une oscillation dans l'espace de phase  $\left(\theta, \frac{\dot{\theta}}{\omega}\right)$ .
8. Retrouver la même chose en partant de l'expression de  $\frac{2E}{mgl}$ .
9. Déduire du résultat précédent le rayon de la trajectoire circulaire dans l'espace de phase et comparer avec le résultat de la question (7). Pourquoi cette différence ?

### 3 Ressort sur un plan incliné

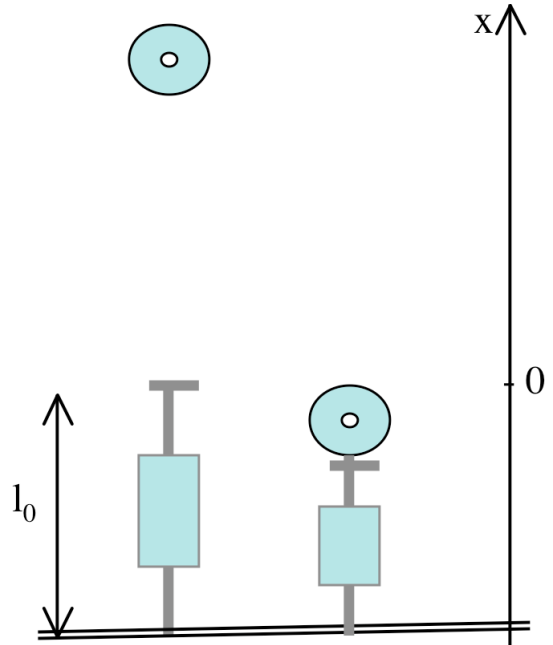
Un ressort de constante de raideur  $k$  et de longueur au repos  $l_0$  est placé sur un plan incliné d'un angle  $\alpha$  par rapport à l'horizontale. Son extrémité libre correspond avec l'origine  $O$  de l'axe et est dirigée vers le bas. Une masse  $m$ , pouvant glisser sans frottements sur le plan incliné, est fixée à l'extrémité de ce ressort. On repère sa position par l'abscisse  $x$ .



1. Exprimer  $U(x)$ , l'énergie potentielle totale du système {masse  $\oplus$  ressort}. On prendra  $U(0) = 0$ .
2. En déduire la position d'équilibre  $x_e$  de  $m$ . Montrer qu'elle est stable.
3. Déterminer la période des oscillations de  $m$  autour de  $x_e$ .
4. Sachant qu'à  $t = 0$  (instant initial)  $m$  est lancée du point d'abscisse  $x_0 = x_e$  avec une vitesse  $v_0 = 1 \text{ m/s}$ , exprimer  $x(t)$  en fonction de  $m$ ,  $k$ ,  $g$  et  $\alpha$ .
5. Écrire l'expression de  $(x - x_e)^2 + \left(\frac{\dot{x}}{\omega}\right)^2$  et en déduire la nature de la trajectoire décrite au cours d'une oscillation dans l'espace de phase  $\left(x, \frac{\dot{x}}{\omega}\right)$ .

### 4 Ressort debout

Un dispositif fait tomber une boule métallique (ponctuelle) de masse  $m$  sur un ressort posé au sol verticalement, de constante de raideur  $k$  et de longueur au repos  $l_0$ . Le ressort disposant d'un aimant à son extrémité libre (l'autre extrémité reposant sur le sol), le système masse  $\oplus$  ressort se met alors à osciller.



1. Exprimer  $U(x)$ . (On prendra  $U(0) = 0$  en considérant qu'à l'instant où  $m$  se pose sur le ressort on a  $x = 0$  et que l'axe des  $x$  est dirigé vers le haut.)
2. Démontrer qu'il existe une position d'équilibre stable  $x_e = -\frac{mg}{k}$ , où  $g$  représente le module de l'accélération de la pesanteur.
3. Démontrer que :

$$x(t) = A \cos \left( \sqrt{\frac{k}{m}} t + \phi \right) - \frac{mg}{k},$$

où  $A$  et  $\phi$  restent à être déterminés et  $t$  représente le temps qui s'écoule.

4. Sachant que  $m$  a été lâchée d'une hauteur  $2h$  sur le ressort alors (à  $t=0$  donc) positionné en  $x=0$ , montrer que la vitesse initiale des oscillations vaut  $-2\sqrt{gh}$ .
5. Sachant d'une part qu'ici  $g=10 \text{ m/s}^2$ ,  $h=0.025 \text{ m}$ ,  $k=1 \text{ N/m}$ ,  $m=0.01 \text{ kg}$ , et que d'autre part  $\arctan(1)=\pi/4 \text{ rad}$ , en déduire  $x(t)$  en fonction seulement de  $t$ .
6. Écrire

$$(x - x_e)^2 + \left( \frac{\dot{x}}{\sqrt{k/m}} \right)^2$$

puis en déduire la représentation de la trajectoire de  $m$  dans l'espace des phases  $\left(x, \frac{\dot{x}}{\sqrt{k/m}}\right)$ .